





① Какой из этих предметов является самым длинным?

② Найди квадрат точно такой же по величине.



3 Из каких половинок можно сложить этот предмет?



4 Какой из этих предметов самый маленький по размеру?



5 Выбери бусинку,
которая подходит
к этим бусам.



1



2



3



4



6 Подбери
подходящую
заплатку.



1



2



3



4



7) Выбери
точно
такой же
предмет.



8) Фрагмент
какого
предмета
здесь
изображён?



1



2



1



2



3



4




3



4



9 Какого предмета нет на этой картинке?



10 Какой фрагмент соответствует этому изображению?



11) Выбери
точно
такой же
предмет.



12) Найди
вторую
половинку
этой
бабочки.



1



2



1



2



3



4



3



4



13

Выбери предмет,
который отличается
от всех остальных.

14

Контур
какого
предмета
здесь
изображён?



1



2



1



2



3



4



3



4



15 Какой предмет
в этом ряду
встречается один раз?



1



2



3




4



16 Выбери
точно
такую же
фигуру.




1




2



3



4



17 В какой упаковке лежит этот предмет?



18 Выбери листок, который подходит к этой ветке.



1



2



1



2



3



4



3

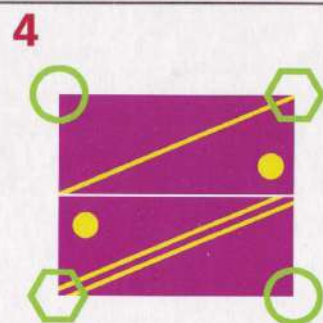
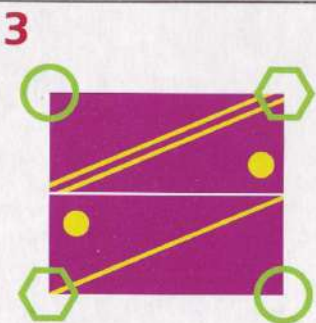
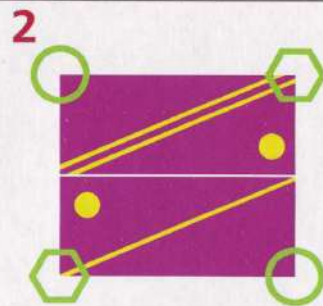
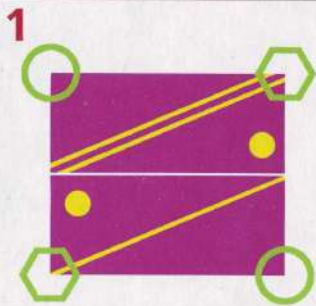


4







19) Выбери фигуру,
которая отличается
от всех остальных.




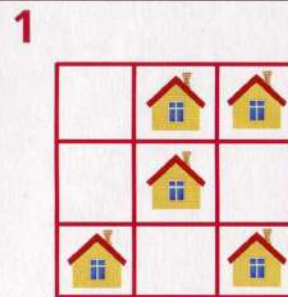

20) На какой
из этих
картинок
присутствует
этот предмет?



21) В каком из этих заданий присутствуют все эти фигуры?



22) Выбери квадрат, в котором фигуры изображены точно так же.



23 Выбери картинку, на которой один предмет заменили на другой.



24 В какой группе присутствуют только эти предметы?

